

Exercice 1 : (4 points)

Dans le plan muni d'un repère, les coordonnées des points A et B sont A(5; -6) et B(-2; 6).

Le point A est le milieu de [BC].

- 1) Déterminer les coordonnées des vecteurs \overrightarrow{AB} et \overrightarrow{CA} .
- 2) En déduire les coordonnées du point C.

Exercice 2 : déterminer les coordonnées d'un point (6 points)

- 1) Placer les points A(4 ; -2) B(-1 ; 3,5) I (3 ; 2) dans un repère orthonormé.
- 2) Construire les points C et D tels que ABCD soit un parallélogramme de centre I.
- 3) Calculer les coordonnées de C et D.

Exercice 3 : (6 points)

- 1) Les vecteurs $\vec{u} \begin{pmatrix} 3 \\ 6 \end{pmatrix}$ et $\vec{v} \begin{pmatrix} 2 \\ 4 \end{pmatrix}$ sont-ils colinéaires ? Justifier.

- 2) Les vecteurs $\vec{w} \begin{pmatrix} 1 \\ -5 \\ 2 \end{pmatrix}$ et $\vec{x} \begin{pmatrix} 1 \\ -12 \end{pmatrix}$ sont-ils colinéaires ? Justifier.

- 3) Dans un repère d'origine O, on donne les points :

$$A(2; 5), B(-1; 6), C(6; -2) \text{ et } D(6; 4).$$

- a) Les droites (AB) et (OC) sont-elles parallèles ? Justifier
- b) Les points A, B et D sont-ils alignés ? Justifier.

Exercice 4 : (4 points)

Soit $(O ; \vec{i}, \vec{j})$ un repère orthonormé du plan.

Soit A(3 ; -5), B(-1 ; 3) et C(1 ; 1).

- 1) Déterminer les coordonnées du point M(x ; y) appartenant à l'axe des ordonnées et tel que les droites (AB) et (CM) soient parallèles.
- 2) Déterminer les coordonnées du point P(x' ; y') appartenant à l'axe des abscisses et tel que les points C, B et P soient alignés.

Exercice 1 : (4 points)

Dans le plan muni d'un repère, les coordonnées des points B et de C sont B(-2; -6) et C(5; 6).

Le point A est le symétrique de B par rapport à C.

- 1) Déterminer les coordonnées des vecteurs \overrightarrow{BC} et \overrightarrow{AC} .
- 2) En déduire les coordonnées du point A.

Exercice 2 : déterminer les coordonnées d'un point (6 points)

- 1) Placer les points A(-4 ; -2) B(-7 ; 0,5) I (-3 ; 2) dans un repère orthonormé.
- 2) Construire les points C et D tels que ABCD soit un parallélogramme de centre I.
- 3) Calculer les coordonnées de C et D.

Exercice 3 : (6 points)

- 1) Les vecteurs $\vec{u} \begin{pmatrix} 6 \\ 15 \end{pmatrix}$ et $\vec{v} \begin{pmatrix} 9 \\ 22 \end{pmatrix}$ sont-ils colinéaires ? Justifier.
- 2) Les vecteurs $\vec{w} \begin{pmatrix} -3 \\ 2 \\ 7 \end{pmatrix}$ et $\vec{x} \begin{pmatrix} -14 \\ 4 \\ 3 \end{pmatrix}$ sont-ils colinéaires ? Justifier.
- 3) Dans un repère d'origine O, on donne les points :
A(1; 4), B(-3; 2), C(3; 2) et D(-2; 7).
 - a) Les points A, C et D sont-ils alignés ? Justifier.
 - b) Les droites (OB) et (AC) sont-elles parallèles ? Justifier

Exercice 4 : (4 points)

Soit $(O ; \vec{i}, \vec{j})$ un repère orthonormé du plan.

Soit A(3 ; -5), B(-1 ; 3) et C(1 ; 1).

- 1) Déterminer les coordonnées du point M(x ; y) appartenant à l'axe des abscisses et tel que les droites (AB) et (CM) soient parallèles.
- 2) Déterminer les coordonnées du point P(x' ; y') appartenant à l'axe des ordonnées et tel que les points C, B et P soient alignés.

CORRECTION

Exercice 1 : (4 points)

Dans le plan muni d'un repère, les coordonnées des points A et B sont A(5; -6) et B(-2; 6).

Le point A est le milieu de [BC].

1) Déterminer les coordonnées des vecteurs \overrightarrow{AB} et \overrightarrow{CA} .

2) En déduire les coordonnées du point C.

$$1) \overrightarrow{AB} \begin{pmatrix} x_B - x_A \\ y_B - y_A \end{pmatrix} = \begin{pmatrix} -2 - 5 \\ 6 - (-6) \end{pmatrix} = \begin{pmatrix} -7 \\ 12 \end{pmatrix}$$

Comme A est le milieu de [BC], alors $\overrightarrow{CA} = \overrightarrow{AB}$

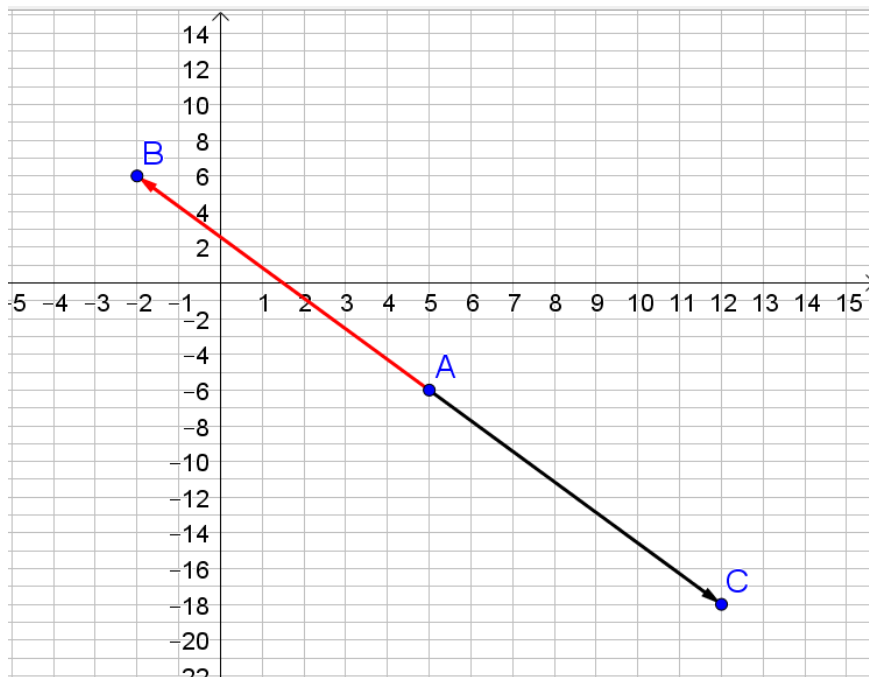
$$\text{Donc } \overrightarrow{CA} \begin{pmatrix} -7 \\ 12 \end{pmatrix}$$

$$2) \overrightarrow{CA} \begin{pmatrix} x_A - x_C \\ y_A - y_C \end{pmatrix} = \begin{pmatrix} 5 - x_C \\ -6 - y_C \end{pmatrix}$$

Comme $\overrightarrow{CA} \begin{pmatrix} -7 \\ 12 \end{pmatrix}$ alors $5 - x_C = -7$ et $-6 - y_C = 12$

Donc $x_C = 7 + 5 = 12$ et $y_C = -12 - 6 = -18$

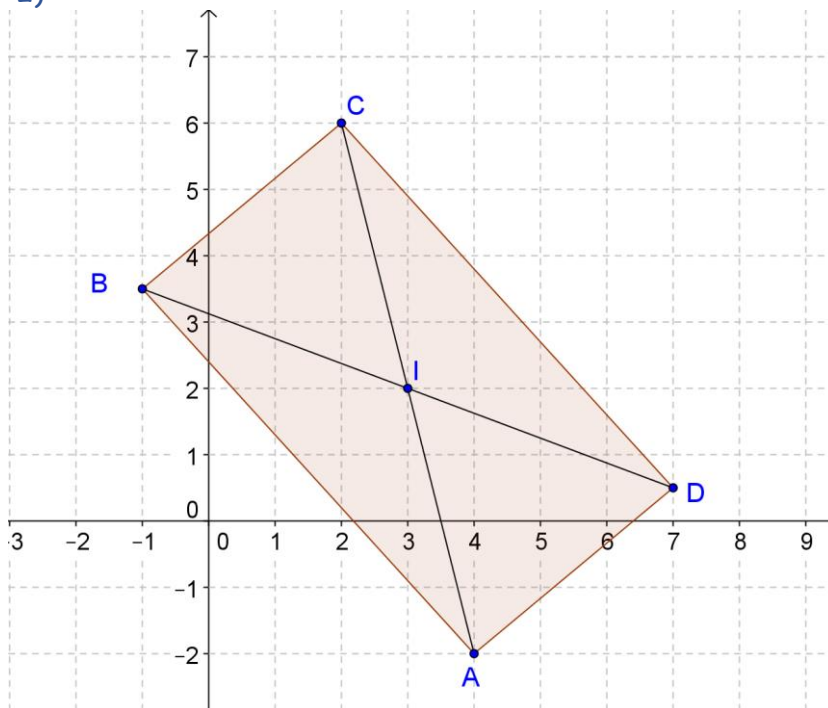
Les coordonnées du point C sont C(12; -18).



Exercice 2 : déterminer les coordonnées d'un point (6 points)

- 1) Placer les points A(4 ; -2) B(-1 ; 3,5) I(3 ; 2) dans un repère orthonormé.
- 2) Construire les points C et D tels que ABCD soit un parallélogramme de centre I.
- 3) Calculer les coordonnées de C et D.

1) 2)



On construit les points D et C symétriques des points A et B par rapport à I.
Alors, les diagonales du quadrilatère ABCD se coupent en I et donc ABCD est un parallélogramme de centre I.
On lit les coordonnées de C(2 ; 6) et de D(7 ; 0,5).

3) Si ABCD est un parallélogramme alors $\vec{AC} = 2 \times \vec{AI}$

$$\text{Soit } \begin{pmatrix} x_C - x_A \\ y_C - y_A \end{pmatrix} = 2 \times \begin{pmatrix} x_I - x_A \\ y_I - y_A \end{pmatrix}$$

$$\text{Soit } \begin{cases} x_C - 4 = 2(3 - 4) \\ y_C - (-2) = 2(2 - (-2)) \end{cases}$$

$$\text{Soit } \begin{cases} x_C = 4 - 2 = 2 \\ y_C = -2 + 8 = 6 \end{cases}$$

Si ABCD est un parallélogramme alors $\vec{BD} = 2 \times \vec{BI}$

$$\text{Soit } \begin{pmatrix} x_D - x_B \\ y_D - y_B \end{pmatrix} = 2 \times \begin{pmatrix} x_I - x_B \\ y_I - y_B \end{pmatrix}$$

$$\text{Soit } \begin{cases} x_D - (-1) = 2(3 - (-1)) \\ y_D - (3,5) = 2(2 - 3,5) \end{cases}$$

$$\text{Soit } \begin{cases} x_D = -1 + 8 = 7 \\ y_D = 3,5 - 3 = 0,5 \end{cases}$$

Exercice 3 : (4 points)

1) Les vecteurs $\vec{u} \begin{pmatrix} 3 \\ 6 \end{pmatrix}$ et $\vec{v} \begin{pmatrix} 2 \\ 4 \end{pmatrix}$ sont-ils colinéaires ? Justifier.

2) Les vecteurs $\vec{w} \begin{pmatrix} -1 \\ -5 \\ 2 \end{pmatrix}$ et $\vec{x} \begin{pmatrix} 1 \\ -12 \end{pmatrix}$ sont-ils colinéaires ? Justifier.

3) Dans un repère d'origine O , on donne les points :

$$A(2; 5), B(-1; 6), C(6;-2) \text{ et } D(6; 4).$$

a) Les droites (AB) et (OC) sont-elles parallèles ? Justifier

b) Les points A, B et D sont-ils alignés ? Justifier.

1) On teste la condition de colinéarité de deux vecteurs :

$$3 \times 4 - 2 \times 6 = 12 - 12 = 0 \text{ donc les vecteurs } \vec{u} \text{ et } \vec{v} \text{ sont colinéaires.}$$

$$2) -\frac{1}{5} \times (-12) - 2 = \frac{12}{5} - 2 = \frac{12 - 10}{5} = \frac{2}{5} \neq 0$$

Donc les vecteurs \vec{w} et \vec{x} ne sont pas colinéaires.

3) a) Calculons les coordonnées des vecteurs \vec{OC} et \vec{AB} .

$$\vec{OC} \begin{pmatrix} 6 \\ -2 \end{pmatrix} \qquad \vec{AB} \begin{pmatrix} x_B - x_A \\ y_B - y_A \end{pmatrix} = \begin{pmatrix} -1 - 2 \\ 6 - 5 \end{pmatrix} = \begin{pmatrix} -3 \\ 1 \end{pmatrix}$$

$$6 \times 1 - (-2) \times (-3) = 6 - 6 = 0$$

Les vecteurs \vec{OC} et \vec{AB} sont colinéaires ; donc les droites (OC) et (AB) sont parallèles.

$$b) \vec{AD} \begin{pmatrix} x_D - x_A \\ y_D - y_A \end{pmatrix} = \begin{pmatrix} 6 - 2 \\ 4 - 5 \end{pmatrix} = \begin{pmatrix} 4 \\ -1 \end{pmatrix} \text{ et } \vec{AB} \begin{pmatrix} -3 \\ 1 \end{pmatrix}$$

$$4 \times 1 - (-1) \times (-3) = 4 - 3 = 1 \neq 0$$

Les vecteurs \vec{AB} et \vec{AD} ne sont pas colinéaires.

Donc les points A, B et D ne sont pas alignés.

CORRECTION

Exercice 4 : (5 points)

Soit $(O ; \vec{i}, \vec{j})$ un repère orthonormé du plan.

Soit $A(3 ; -5)$, $B(-1 ; 3)$ et $C(1 ; 1)$.

- 1) Déterminer les coordonnées du point $M(x ; y)$ appartenant à l'axe des ordonnées et tel que les droites (AB) et (CM) soient parallèles.
- 2) Déterminer les coordonnées du point $P(x' ; y')$ appartenant à l'axe des abscisses et tel que les points C , B et P soient alignés.

1) Si M appartient à l'axe des ordonnées alors $x = 0$.

Si les droites (AB) et (CM) sont parallèles alors les vecteurs \vec{AB} et \vec{CM} sont colinéaires.

$$\vec{AB} \begin{pmatrix} x_B - x_A \\ y_B - y_A \end{pmatrix} = \begin{pmatrix} -1 - 3 \\ 3 - (-5) \end{pmatrix} = \begin{pmatrix} -4 \\ 8 \end{pmatrix} \quad \vec{CM} \begin{pmatrix} x_M - x_C \\ y_M - y_C \end{pmatrix} = \begin{pmatrix} 0 - 1 \\ y - 1 \end{pmatrix} = \begin{pmatrix} -1 \\ y - 1 \end{pmatrix}$$

$$\begin{aligned} \vec{AB} \text{ et } \vec{CM} \text{ colinéaires} &\Leftrightarrow -4 \times (y - 1) - 8 \times (-1) = 0 \\ &\Leftrightarrow -4y + 4 + 8 = 0 \\ &\Leftrightarrow 4y = 12 \\ &\Leftrightarrow y = 3 \end{aligned}$$

Le point M a pour coordonnées $(0 ; 3)$.

2) Si P appartient à l'axe des abscisses alors $y' = 0$.

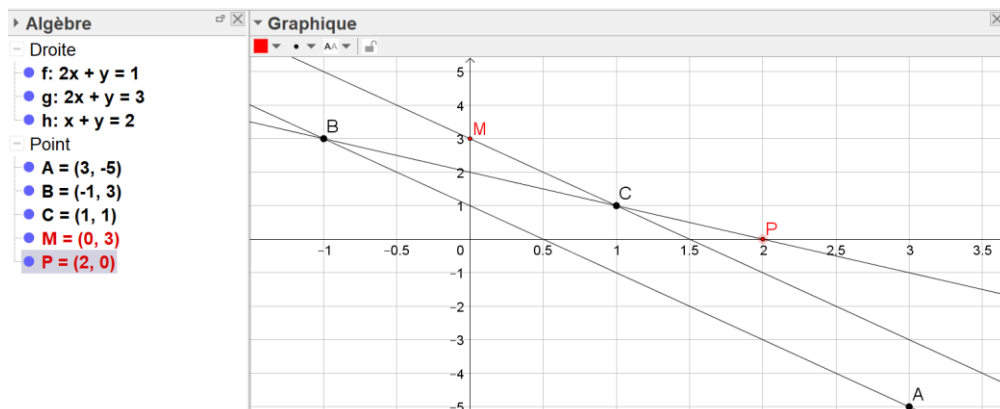
Si les points C , B et P sont alignés alors les vecteurs \vec{BC} et \vec{BP} sont colinéaires.

$$\vec{BC} \begin{pmatrix} x_C - x_B \\ y_C - y_B \end{pmatrix} = \begin{pmatrix} 1 - (-1) \\ 1 - 3 \end{pmatrix} = \begin{pmatrix} 2 \\ -2 \end{pmatrix} \quad \vec{BP} \begin{pmatrix} x_P - x_B \\ y_P - y_B \end{pmatrix} = \begin{pmatrix} x' - (-1) \\ 0 - 3 \end{pmatrix} = \begin{pmatrix} x' + 1 \\ -3 \end{pmatrix}$$

$$\begin{aligned} \vec{BC} \text{ et } \vec{BP} \text{ colinéaires} &\Leftrightarrow 2 \times (-3) - (-2) \times (x' + 1) = 0 \\ &\Leftrightarrow -6 + 2x' + 2 = 0 \\ &\Leftrightarrow 2x' = 4 \\ &\Leftrightarrow x' = 2 \end{aligned}$$

Le point P a pour coordonnées $(2 ; 0)$.

Vérification graphique :



CORRECTION

Exercice 1 : (4 points)

Dans le plan muni d'un repère, les coordonnées des points B et de C sont B(-2; -6) et C(5; 6). Le point A est le symétrique de B par rapport à C.

- 1) Déterminer les coordonnées des vecteurs \overrightarrow{BC} et \overrightarrow{AC} .
- 2) En déduire les coordonnées du point A.

$$1) \overrightarrow{BC} \begin{pmatrix} x_C - x_B \\ y_C - y_B \end{pmatrix} = \begin{pmatrix} 5 - (-2) \\ 6 - (-6) \end{pmatrix} = \begin{pmatrix} 7 \\ 12 \end{pmatrix}$$

Comme A est le symétrique de B par rapport à C alors $\overrightarrow{AC} = \overrightarrow{CB} = -\overrightarrow{BC}$.

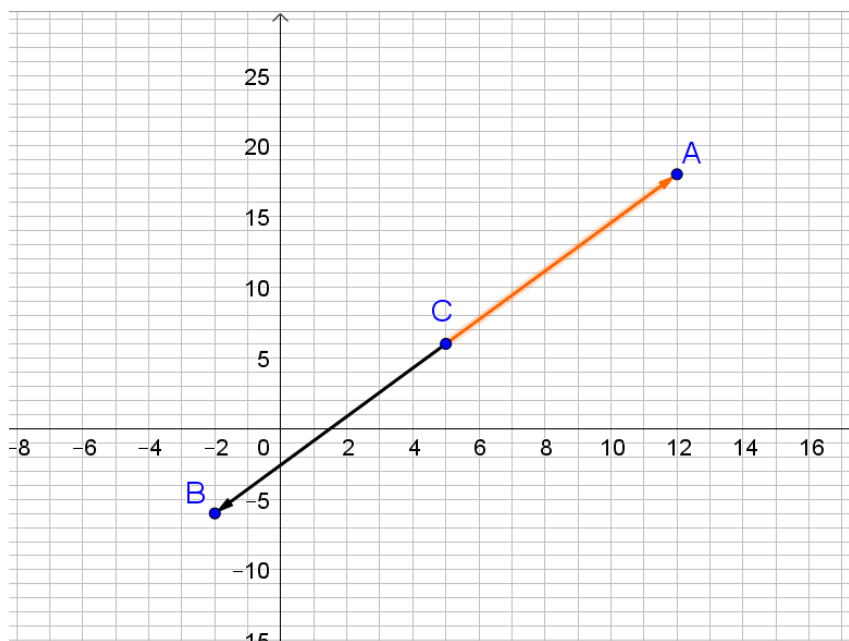
$$\text{Donc } \overrightarrow{AC} = \begin{pmatrix} -7 \\ -12 \end{pmatrix}$$

$$2) \overrightarrow{CA} \begin{pmatrix} x_A - x_C \\ y_A - y_C \end{pmatrix} = \begin{pmatrix} x_A - 5 \\ y_A - 6 \end{pmatrix}$$

Comme $\overrightarrow{CA} \begin{pmatrix} 7 \\ 12 \end{pmatrix}$ alors $x_A - 5 = 7$ et $y_A - 6 = 12$

Donc $x_A = 7 + 5 = 12$ et $y_A = 6 + 12 = 18$

Les coordonnées du point A sont donc A(12;18)

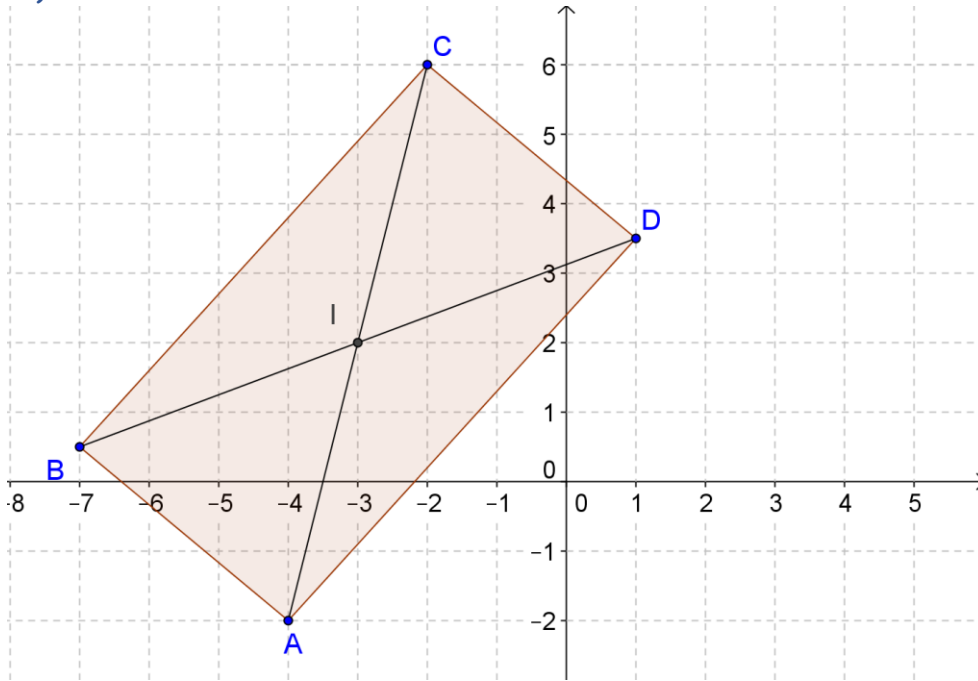


CORRECTION

Exercice 2 : déterminer les coordonnées d'un point (6 points)

- 1) Placer les points A(-4 ; -2) B(-7 ; 0,5) I (-3 ; 2) dans un repère orthonormé.
- 2) Construire les points C et D tels que ABCD soit un parallélogramme de centre I.
- 3) Calculer les coordonnées de C et D.

1) 2)



On construit les points C et D symétriques des points A et B par rapport à I. Alors, les diagonales du quadrilatère ABCD se coupent en I et donc ABCD est un parallélogramme de centre I.

On lit les coordonnées de C(-2 ; 6) et de D(1 ; 3,5).

3) Si ABCD est un parallélogramme alors $\vec{AC} = 2 \times \vec{AI}$

$$\text{Soit } \begin{pmatrix} x_C - x_A \\ y_C - y_A \end{pmatrix} = 2 \times \begin{pmatrix} x_I - x_A \\ y_I - y_A \end{pmatrix}$$

$$\text{Soit } \begin{cases} x_C - (-4) = 2(-3 - (-4)) \\ y_C - (-2) = 2(2 - (-2)) \end{cases}$$

$$\text{Soit } \begin{cases} x_C = -4 + 2 = -2 \\ y_C = -2 + 8 = 6 \end{cases}$$

Si ABCD est un parallélogramme alors $\vec{BD} = 2 \times \vec{BI}$

$$\text{Soit } \begin{pmatrix} x_D - x_B \\ y_D - y_B \end{pmatrix} = 2 \times \begin{pmatrix} x_I - x_B \\ y_I - y_B \end{pmatrix}$$

$$\text{Soit } \begin{cases} x_D - (-7) = 2(-3 - (-7)) \\ y_D - 0,5 = 2(2 - 0,5) \end{cases}$$

$$\text{Soit } \begin{cases} x_D = -7 + 8 = 1 \\ y_D = 0,5 + 3 = 3,5 \end{cases}$$

Exercice 3 : (6 points)

1) Les vecteurs $\vec{u} \begin{pmatrix} 6 \\ 15 \end{pmatrix}$ et $\vec{v} \begin{pmatrix} 9 \\ 22 \end{pmatrix}$ sont-ils colinéaires ? Justifier.

2) Les vecteurs $\vec{w} \begin{pmatrix} -3 \\ 2 \\ 7 \end{pmatrix}$ et $\vec{x} \begin{pmatrix} -14 \\ 4 \\ 3 \end{pmatrix}$ sont-ils colinéaires ? Justifier.

3) Dans un repère d'origine O , on donne les points :

$$A(1; 4), B(-3; 2), C(3; 2) \text{ et } D(-2; 7).$$

a) Les points A, C et D sont-ils alignés ? Justifier.

b) Les droites (OB) et (AC) sont-elles parallèles ? Justifier

1) On teste la condition de colinéarité de deux vecteurs :

$$6 \times 22 - 9 \times 15 = 132 - 135 = -3 \neq 0 \text{ donc les vecteurs } \vec{u} \text{ et } \vec{v} \text{ ne sont pas colinéaires.}$$

$$2) -3 \times \frac{4}{3} (-14) \times \frac{2}{7} = -4 + 4 = 0, \text{ donc les vecteurs } \vec{w} \text{ et } \vec{x} \text{ sont colinéaires.}$$

3) a) Calculons les coordonnées des vecteurs \vec{AC} et \vec{AD} .

$$\vec{AC} \begin{pmatrix} x_C - x_A \\ y_C - y_A \end{pmatrix} = \begin{pmatrix} 3 - 1 \\ 2 - 4 \end{pmatrix} = \begin{pmatrix} 2 \\ -2 \end{pmatrix} \text{ et } \vec{AD} \begin{pmatrix} x_D - x_A \\ y_D - y_A \end{pmatrix} = \begin{pmatrix} -2 - 1 \\ 7 - 4 \end{pmatrix} = \begin{pmatrix} -3 \\ 3 \end{pmatrix}$$

$$2 \times 3 - (-2) \times (-3) = 6 - 6 = 0 \text{ donc les vecteurs } \vec{AC} \text{ et } \vec{AD} \text{ sont colinéaires.}$$

Donc les points A, C et D sont alignés.

b) Calculons les coordonnées du vecteur \vec{OB} .

$$\vec{OB} \begin{pmatrix} -3 \\ 2 \end{pmatrix} \qquad \vec{AC} \begin{pmatrix} 2 \\ -2 \end{pmatrix}$$

$$(-3) \times (-2) - 2 \times 2 = 6 - 4 = 2 \neq 0$$

Les vecteurs \vec{OB} et \vec{AC} ne sont pas colinéaires ; donc les droites (OB) et (AC) ne sont pas parallèles.

Exercice 4 : (4 points)

Soit $(O ; \vec{i}, \vec{j})$ un repère orthonormé du plan.

Soit $A(3 ; -5)$, $B(-1 ; 3)$ et $C(1 ; 1)$.

- 1) Déterminer les coordonnées du point $M(x ; y)$ appartenant à l'axe des abscisses et tel que les droites (AB) et (CM) soient parallèles.
- 2) Déterminer les coordonnées du point $P(x' ; y')$ appartenant à l'axe des ordonnées et tel que les points C , B et P soient alignés.

- 1) Si $M(x;y)$ appartient à l'axe des abscisses alors $y = 0$.
Donc $M(x ; 0)$

Si les droites (AB) et (CM) sont parallèles alors les vecteurs \vec{AB} et \vec{CM} sont colinéaires.

$$\vec{AB} \begin{pmatrix} x_B - x_A \\ y_B - y_A \end{pmatrix} = \begin{pmatrix} -1 - 3 \\ 3 - (-5) \end{pmatrix} = \begin{pmatrix} -4 \\ 8 \end{pmatrix} \qquad \vec{CM} \begin{pmatrix} x - x_C \\ 0 - y_C \end{pmatrix} = \begin{pmatrix} x - 1 \\ 0 - 1 \end{pmatrix} = \begin{pmatrix} x - 1 \\ -1 \end{pmatrix}$$

$$\begin{aligned} \vec{BC} \text{ et } \vec{CM} \text{ colinéaires} &\Leftrightarrow -4 \times (-1) - 8 \times (x - 1) = 0 \\ &\Leftrightarrow 4 - 8x + 8 = 0 \\ &\Leftrightarrow -8x = -12 \\ &\Leftrightarrow x = \frac{-12}{-8} = 1,5 \end{aligned}$$

Le point M a pour coordonnées $(1,5 ; 0)$.

- 2) Si $P(x';y')$ appartient à l'axe des ordonnées alors $x' = 0$. Donc $P(0 ; y')$

Si les points C , B et P sont alignés alors les vecteurs \vec{BC} et \vec{CP} sont colinéaires.

$$\vec{BC} \begin{pmatrix} x_C - x_B \\ y_C - y_B \end{pmatrix} = \begin{pmatrix} 1 - (-1) \\ 1 - 3 \end{pmatrix} = \begin{pmatrix} 2 \\ -2 \end{pmatrix} \qquad \vec{CP} \begin{pmatrix} 0 - x_C \\ y' - y_C \end{pmatrix} = \begin{pmatrix} 0 - 1 \\ y' - 1 \end{pmatrix} = \begin{pmatrix} -1 \\ y' - 1 \end{pmatrix}$$

$$\begin{aligned} \vec{BC} \text{ et } \vec{CP} \text{ colinéaires} &\Leftrightarrow 2 \times (y' - 1) - (-1) \times (-2) = 0 \\ &\Leftrightarrow 2y' - 2 - 2 = 0 \\ &\Leftrightarrow 2y' = 4 \\ &\Leftrightarrow y' = 2 \end{aligned}$$

Le point P a pour coordonnées $(0 ; 2)$.

Vérification graphique :

